

Единый государственный экзамен по ИСТОРИИ

Демонстрационный вариант контрольных измерительных материалов единого государственного экзамена 2025 года по ИСТОРИИ

подготовлен федеральным государственным бюджетным
научным учреждением
«ФЕДЕРАЛЬНЫЙ ИНСТИТУТ ПЕДАГОГИЧЕСКИХ ИЗМЕРЕНИЙ»

Единый государственный экзамен по ИСТОРИИ

Пояснения к демонстрационному варианту контрольных измерительных материалов единого государственного экзамена 2025 года по ИСТОРИИ

При ознакомлении с демонстрационным вариантом контрольных измерительных материалов (КИМ) единого государственного экзамена (ЕГЭ) 2025 г. следует иметь в виду, что задания, включённые в него, не отражают всех элементов содержания, которые будут проверяться с помощью вариантов КИМ в 2025 г. Полный перечень элементов содержания, которые могут контролироваться на едином государственном экзамене 2025 г., приведён в кодификаторе проверяемых требований к результатам освоения основной образовательной программы среднего общего образования и элементов содержания для проведения единого государственного экзамена по истории.



В демонстрационном варианте представлены конкретные примеры заданий, не исчерпывающие всего многообразия возможных формулировок заданий на каждой позиции варианта экзаменационной работы.

Назначение демонстрационного варианта заключается в том, чтобы дать возможность любому участнику ЕГЭ и широкой общественности составить представление о структуре будущих КИМ, количестве заданий, об их форме и уровне сложности.

Приведённые критерии оценки выполнения заданий с развёрнутым ответом, включённые в этот вариант, дают представление о требованиях к полноте и правильности записи развёрнутого ответа.

Эти сведения позволят выпускникам выработать стратегию подготовки к ЕГЭ в 2025 г.

**Демонстрационный вариант
контрольных измерительных материалов
единого государственного экзамена 2025 года
по ИСТОРИИ**

Инструкция по выполнению работы

Экзаменационная работа состоит из двух частей, включающих в себя 21 задание. Часть 1 содержит 12 заданий, часть 2 содержит 9 заданий.

На выполнение экзаменационной работы по истории отводится 3 часа 30 минут (210 минут).

Ответы к заданиям 1–12 записываются по приведённым ниже **образцам** в виде последовательности цифр или слова (словосочетания). Ответ запишите в поле ответа в тексте работы, а затем перенесите в бланк ответов № 1.

КИМ

А	Б	В	Г
3	1	4	2

Бланк

Ответ: НИКОЛАЙ ВТОРОЙ

Ответ:

1	4	5
---	---	---

Задания части 2 (13–21) требуют развёрнутого ответа. В бланке ответов № 2 укажите номер задания и запишите ответ к нему.

Все бланки ЕГЭ заполняются яркими чёрными чернилами. Допускается использование гелевой или капиллярной ручки.

При выполнении заданий можно пользоваться черновиком. Записи в черновике, а также в тексте контрольных измерительных материалов не учитываются при оценивании работы.

Баллы, полученные Вами за выполненные задания, суммируются. Постарайтесь выполнить как можно больше заданий и набрать наибольшее количество баллов.

После завершения работы проверьте, чтобы ответ на каждое задание в бланках ответов № 1 и № 2 был записан под правильным номером.

Желаем успеха!

Часть 1

Ответом к заданиям 1–12 является последовательность цифр или слово (словосочетание). Сначала укажите ответы в тексте работы, а затем перенесите их в БЛАНК ОТВЕТОВ № 1 справа от номера соответствующего задания, начиная с первой клеточки, без пробелов, запятых и других дополнительных символов. Каждую цифру или букву пишите в отдельной клеточке в соответствии с приведёнными в бланке образцами. Имена российских государей следует писать только буквами (например: Николай Второй).

1 Установите соответствие между событиями и годами: к каждой позиции первого столбца подберите соответствующую позицию из второго столбца.

СОБЫТИЯ	ГОДЫ
А) принятие Соборного уложения	1) 1382 г.
Б) поход хана Тохтамыша на Москву	2) 1480 г.
В) X съезд РКП(б)	3) 1649 г.
Г) завершение Сталинградской битвы	4) 1730 г.
	5) 1921 г.
	6) 1943 г.

Запишите в таблицу выбранные цифры под соответствующими буквами.

Ответ:

А	Б	В	Г

2 Расположите в хронологической последовательности исторические события. Запишите цифры, которыми обозначены исторические события, в правильной последовательности в таблицу.

- 1) установление режима консульства во Франции
- 2) созыв первого Земского собора
- 3) начало создания уездных земских собраний

Ответ:

--	--	--

3 Установите соответствие между процессами (явлениями, событиями) и фактами, относящимися к этим процессам (явлениям, событиям): к каждой позиции первого столбца подберите соответствующую позицию из второго столбца.

**ПРОЦЕССЫ
(ЯВЛЕНИЯ, СОБЫТИЯ)**

- А) Гражданская война
- Б) раскол в Русской Православной Церкви
- В) Отечественная война 1812 г.
- Г) борьба за власть между сыновьями Владимира Святославича

ФАКТЫ

- 1) разгром армии П.Н. Врангеля в Крыму
- 2) сражение под Малоярославцем
- 3) битва при Молодях
- 4) Соловецкое восстание
- 5) убийство князей Бориса и Глеба
- 6) создание Тройственного союза

Запишите в таблицу выбранные цифры под соответствующими буквами.

Ответ:

А	Б	В	Г

4 Заполните пустые ячейки таблицы, используя приведённый ниже список пропущенных элементов: для каждого пропуска, обозначенного буквой, выберите номер нужного элемента.

Географический объект	Событие (явление, процесс)	Время, когда произошло событие (явление, процесс)
Херсон	_____ (А)	_____ (Б)
_____ (В)	Строительство первой в мире атомной электростанции	_____ (Г)
Берёзов	_____ (Д)	1720-е гг.
_____ (Е)	Присоединение города к России в результате войны с Османской империей	1810-е гг.

Пропущенные элементы:

- 1) Воронеж
- 2) Обнинск
- 3) вхождение в состав Российской Федерации в период проведения Специальной военной операции (СВО)
- 4) 2020-е гг.
- 5) Кишинёв
- 6) 1950-е гг.
- 7) ссылка А.Д. Меншикова
- 8) строительство Транссибирской магистрали
- 9) 1980-е гг.

Запишите в таблицу выбранные цифры под соответствующими буквами.

Ответ:

А	Б	В	Г	Д	Е

- 5 Установите соответствие между событиями (явлениями, процессами) и участниками этих событий (явлений, процессов): к каждой позиции первого столбца подберите соответствующую позицию из второго столбца.

СОБЫТИЯ (ЯВЛЕНИЯ, ПРОЦЕССЫ)	УЧАСТНИКИ
А) учреждение первых коллегий	1) З.А. Космодемьянская
Б) Курская битва	2) Пётр I
В) издание первого общерусского Судебника	3) Екатерина II
Г) Специальная военная операция (СВО)	4) И.Н. Кожедуб
	5) Иван III
	6) В.А. Жога

Запишите в таблицу выбранные цифры под соответствующими буквами.

Ответ:

А	Б	В	Г

- 6 Прочтите отрывок из записок иностранца.

«В <...> году его царское величество решил предпринять большое путешествие и отправился в дорогу с большою свитою, состоявшею, между прочим, из разных князей и вельмож его государства, двух или трёх послов, священников и других должностных лиц. Одни из них ехали в Германию и Вену к германскому императору, другие же – в Италию и Рим к папе; сам же он со многими из вышеупомянутых господ отправился в Голландию и Англию. Но в газетах не смели сообщить о том, что он самолично участвует в этом путешествии, а писалось всегда: "великое московское посольство" или "некоторые князья из великого посольства его царского величества" были здесь или там...

Его свита говорила, что они, вероятно, останутся всю зиму в Зандаме, чтобы усовершенствоваться в кораблестроении и других ремёслах...

Его царское величество осматривал с большим вниманием корабельные верфи и лесопильные мельницы и, между прочим, отправился на мельницу под названием de-kok (повар), чтобы видеть, как изготавливается белая бумага.

Один правдивый амстердамский торговец рассказывал мне, что какой-то купец в Амстердаме пожелал видеть великого князя за работой плотника и поэтому обратился к корабельному мастеру верфи с просьбой, чтоб тот допустил его и дал ему возможность удовлетворить своё любопытство. Его просьба была исполнена».

Используя отрывок и знания по истории, выберите в приведённом списке верные суждения.

Запишите цифры, под которыми они указаны.

- 1) Одной из целей посольства, упоминаемого в тексте, был поиск союзников для противостояния Османской империи.
- 2) События, о которых идёт речь в отрывке, произошли в первой четверти XVIII в.
- 3) Упоминаемый в тексте русский царь единолично правил страной с 1682 г.
- 4) Одним из упоминаемых в тексте «двух или трёх послов» был А.Л. Ордин-Нащокин.
- 5) В ходе описываемого путешествия русский царь совершенствовал своё мастерство корабельного плотника на голландской верфи.
- 6) Русский царь принимал участие в описываемом в отрывке путешествии под вымышленным именем.

Ответ: _____.

7 Установите соответствие между произведениями культуры и их краткими характеристиками: к каждой позиции первого столбца подберите соответствующую позицию из второго столбца.

**ПРОИЗВЕДЕНИЯ
КУЛЬТУРЫ**

- А) «Слово о законе и благодати»
- Б) «Домострой»
- В) опера «Князь Игорь»
- Г) повесть «Собачье сердце»

ХАРАКТЕРИСТИКИ

- 1) Автор является основоположником русской национальной оперы.
- 2) Действие произведения происходит в 1920-х гг.
- 3) Автор – член творческого содружества «Могучая кучка».
- 4) Автор был выслан из СССР в эпоху «застоя».
- 5) Автор был современником Ярослава Мудрого.
- 6) Произведение создано в XVI в.

Запишите в таблицу выбранные цифры под соответствующими буквами.

Ответ:

А	Б	В	Г

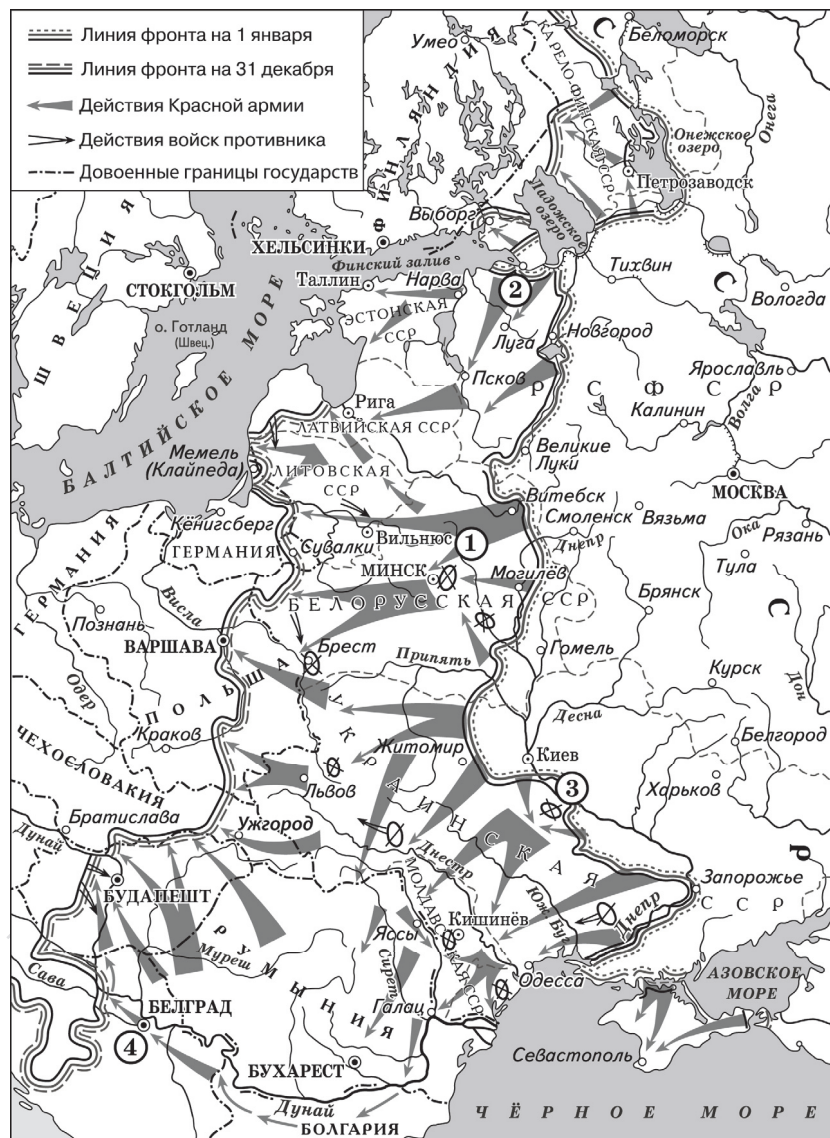
8 Рассмотрите изображение и выполните задание.



Заполните пропуск в предложении: «Событие, юбилею которого посвящён плакат, произошло в тысяча девятьсот _____ году». Ответ запишите словом (сочетанием слов).

Ответ: _____.

Рассмотрите схему и выполните задания 9–12.



9 Заполните пропуск в предложении: «События, обозначенные на схеме стрелками, произошли в тысяча девятьсот _____ году». Ответ запишите словом (сочетанием слов).

Ответ: _____.

10 Укажите фамилию российского военачальника, в честь которого была названа военная операция советских войск, проводившаяся в районе, обозначенном на схеме цифрой «1».

Ответ: _____.

11 Прочтите текст о событиях, отражённых на схеме, и, используя схему, укажите название города, которое трижды пропущено в тексте.

«Большую роль в операции по освобождению _____ сыграли действия 2-й ударной армии Ленинградского фронта под командованием Ивана Федюнинского. Эта армия ранее вела боевые действия под Нарвой и была оперативно переброшена под _____ в связи с изменением обстановки. Когда советские войска были на подходе к _____, командование противника осознало полную бесперспективность дальнейших боёв на этом направлении и приказало провести операцию, предусматривающую эвакуацию и отступление немецких войск».

Ответ: _____.

12 Какие суждения, относящиеся к схеме, являются верными? Запишите цифры, под которыми они указаны.

- 1) В ходе боевых действий, обозначенных на схеме стрелками, советскими войсками была освобождена Братислава.
- 2) В период боевых действий, обозначенных на схеме стрелками, союзники СССР открыли Второй фронт во Франции.
- 3) В ходе боевых действий, обозначенных на схеме стрелками, советскими войсками был освобождён Крым.
- 4) Война, часть событий которой отражена на схеме, началась с нападения Германии на страну, обозначенную на схеме цифрой «4».
- 5) Цифрой «3» на схеме обозначен район Корсунь-Шевченковской операции советских войск.
- 6) В период боевых действий, обозначенных на схеме стрелками, была полностью снята блокада с города, обозначенного цифрой «2».

Ответ: _____.



Не забудьте перенести все ответы в бланк ответов № 1 в соответствии с инструкцией по выполнению работы. Проверьте, чтобы каждый ответ был записан в строке с номером соответствующего задания.

Часть 2

Для записи ответов на задания этой части (13–21) используйте БЛАНК ОТВЕТОВ № 2. Запишите сначала номер задания (13, 14 и т.д.), а затем развернутый ответ на него. Ответы записывайте чётко и разборчиво.

Прочтите отрывок из исторического источника и выполните задания 13 и 14. Ответы предполагают использование информации из источника, а также применение знаний по курсу истории соответствующего периода.

Из воспоминаний учёного

«Пять лет... я проработал "учёным корректором" в Издательстве Академии наук СССР... Не скажу, что это была плохая работа. Она мне давала возможность укрыться, не высказываться по "острым вопросам". Я часто хворал, попадал в больницы в острые периоды моей болезни...

В очередной раз я лежал в больнице, когда в Ленинграде началась паспортизация. Период паспортизации был одним из самых страшных периодов в жизни больших городов. Люди Москвы и Ленинграда жили в напряжении, ожидая решения своей судьбы: каково будет решение паспортных комиссий. Строгих инструкций не было. В Ленинграде не давали паспортов дворянам, а в дворцовых пригородах – ещё и бывшим служащим дворцов. Последнее имело последствия не только для людей, но и для дворцов. Дворцовая обслуга была честной и хранила всякую мелочь. Приходившие ей на смену "кадры" утаивали, воровали, "списывали", ничего не понимая в "вещах" – в предметах искусства. Пропадали ценнейшие сведения, передававшиеся из уст в уста, легенды, предания и даже некоторые традиции. С высылкой же дворянства изменялся культурный облик городов. Улица меняла своё обличье. Другими стали лица прохожих (свои одежды улица сменила давно).

Появилась своя паспортная комиссия и в Академии наук. Заседала она в главном здании Академии. Я очень боялся, что меня вызовут и начнут спрашивать о моём деле и пытаться, как я отношусь к советской власти сейчас. Поэтому, когда я заболел и попал в больницу, я даже как-то не очень стремился выписаться из неё. Выписавшись, я узнал: паспортная комиссия в Академии закончила свою работу. Думал – пронесло... Однако ж не пронесло. Мне объявили, что паспорта мне не дают. Назначили срок выезда из Ленинграда. Не дали паспортов... всем, кто имел "судимость". Отец страшно волновался. Искал влиятельных лиц и, знаю, у кого-то плакал (мне говорили). Наконец, нашёлся кто-то (кажется, секретарь райкома), который обещал помочь, но хотел повидать меня... За столом сидели секретарь и его жена, которая смотрела на меня с жалостью. Кончилось тем, что мне дали отсрочку на "долечивание"».

13 Укажите десятилетие, когда произошли описываемые события. Укажите высшего руководителя коммунистической партии в СССР в этот период. Укажите название правительства СССР в этот период.



14 Чем была хороша, по мнению автора воспоминаний, его работа в должности «учёного корректора»? Каково было, по мнению автора, последствие паспортизации для дворцов, расположенных в пригородах Ленинграда? Какое обстоятельство согласно данному отрывку спасло автора воспоминаний от выезда из Ленинграда? При ответе избегайте цитирования избыточного текста, не содержащего положений, которые должны быть приведены по условию задания.

Рассмотрите изображение и выполните задания 15, 16.



- 15 Назовите киевского князя, по приказу которого был основан город, юбилею которого посвящена марка. Используя изображение, приведите одно любое обоснование Вашего ответа.

- 16 Какой из представленных ниже памятников архитектуры был создан в том же веке, когда был основан город, юбилею которого посвящена марка? В ответе запишите цифру, которой обозначен этот памятник архитектуры. Назовите город, где находится данный памятник архитектуры.



17 Прочтите отрывки из воспоминаний современников.

ФРАГМЕНТЫ ИСТОЧНИКОВ	
А)	«Слушал радиопередачу. Вчера состоялось торжественное собрание, посвящённое годовщине Октября. Сегодня состоялся парад частей Красной армии. Нет, я не ослышался. Это правда, правда! Парад перед лицом наступающего врага, в условиях, когда фашистские полчища рвутся в столицу. И там... выступил от имени ЦК партии и правительства товарищ Сталин. С трибуны Мавзолея великого Ленина, поздравляя воинов Красной армии, советский народ с 24-й годовщиной Октябрьской социалистической революции, Сталин призвал громить гитлеровских захватчиков, заявив о непоколебимой вере в победу. Значит, [город] стоит и стоит уверенно и стойко. Это всем нам придаёт много бодрости, удесятерит наши силы».
Б)	«Фашистские войска всё ближе и ближе приближались к городу, стараясь взять его в свои клещи. Гитлер стянул сюда свои лучшие и отборные войска и кинул на захват [города] почти треть своих дивизий... По указанию Гитлера они готовились к 7 Ноября. В день годовщины Великой Октябрьской Социалистической революции он рассчитывал провести парад немецких войск на Красной площади. Но многочисленные планы гитлеровцев провалились... Несмотря на огромную опасность, нависшую над [городом], жители города не унывали. Заняв оборону на ближних подступах к городу, добровольцы усердно принялись за учёбу, работу, несение караульной службы. Рылись окопы, рвы, блиндажи. И вскоре город был окутан густой сетью противотанковых рвов, заграждений из проволоки, окопов, огромным количеством зелёных, деревянных и бетонных блиндажей, ставших непроходимым препятствием для фашистских захватчиков».

Укажите название битвы, о событиях которой идёт речь в обоих представленных отрывках. Укажите месяц и год начала этой битвы. Что, согласно одному из отрывков, собиралось осуществить фашистское командование 7 ноября?

При ответе избегайте цитирования избыточного текста, не содержащего положений, которые должны быть приведены по условию задания.

18 В 1830–1831 гг. произошло восстание в Царстве Польском, которое было подавлено русскими войсками. Укажите:

- причину восстания, связанную с влиянием политических событий в других странах;
- политическое последствие восстания для Царства Польского;
- последствие восстания для развития высшего образования в Российской империи.

Ответ оформите в следующем виде (обязательно соблюдайте порядок заполнения пунктов ответа).

- _____
- _____
- _____

19 Используя знания по истории России, раскройте смысл понятия «заповедные лета». Приведите один исторический факт, конкретизирующий данное понятие применительно к истории России. Приведённый факт не должен содержаться в данном Вами определении понятия.

20 Запишите один любой тезис (обобщённое оценочное суждение), содержащий информацию о сходстве экономической политики Николая I и Александра III по какому(-им)-либо признаку(-ам). Приведите два обоснования этого тезиса. Каждое обоснование должно содержать один или несколько исторических фактов. При обосновании тезиса избегайте рассуждений общего характера.

Ответ оформите в следующем виде.

Тезис: _____

Обоснования тезиса:

- _____
- _____

21 Используя исторические знания, приведите аргументы в подтверждение точки зрения, что в России в XVII в. и в английских колониях в XVIII в. изменения в налоговой политике государства вызвали недовольство населения и повлекли социальные выступления: один аргумент для России и один для колоний Англии. При изложении аргументов обязательно используйте исторические факты.

Ответ запишите в следующем виде.

Аргумент для России: _____

Аргумент для колоний Англии: _____



Проверьте, чтобы каждый ответ был записан рядом с номером соответствующего задания.

Система оценивания экзаменационной работы по истории**Часть 1**

Правильное выполнение каждого из заданий 2, 8–11 оценивается 1 баллом. Задание считается выполненным верно, если ответ записан в той форме, которая указана в инструкции по выполнению задания, и полностью совпадает с эталоном ответа.

Правильное выполнение каждого из заданий 1, 3, 5, 7 оценивается 2 баллами. Задание считается выполненным верно, если ответ записан в той форме, которая указана в инструкции по выполнению задания, и полностью совпадает с эталоном ответа: каждый символ в ответе стоит на своём месте, лишние символы в ответе отсутствуют. Выставляется 1 балл, если на любой одной позиции ответа записан не тот символ, который представлен в эталоне ответа. Во всех других случаях выставляется 0 баллов. Если количество символов в ответе больше требуемого, выставляется 0 баллов вне зависимости от того, были ли указаны все необходимые символы.

Правильное выполнение каждого из заданий 6, 12 оценивается 2 баллами. Задание считается выполненным верно, если ответ записан в той форме, которая указана в инструкции по выполнению задания, каждый символ присутствует в ответе, порядок записи символов в ответе значения не имеет, в ответе отсутствуют лишние символы. Выставляется 1 балл, если только один из символов, указанных в ответе, не соответствует эталону (в том числе есть один лишний символ наряду с остальными верными) или только один символ отсутствует; во всех других случаях выставляется 0 баллов.

Правильное выполнение задания 4 оценивается 3 баллами. Задание считается выполненным верно, если ответ записан в той форме, которая указана в инструкции по выполнению задания, и полностью совпадает с эталоном ответа: каждый символ в ответе стоит на своём месте, лишние символы в ответе отсутствуют. Выставляются 2 балла, если на любой одной позиции ответа записан не тот символ, который представлен в эталоне ответа. Выставляется 1 балл, если на любых двух-трёх позициях ответа записаны не те символы, которые представлены в эталоне ответа. Во всех других случаях выставляется 0 баллов. Если количество символов в ответе больше требуемого, выставляется 0 баллов вне зависимости от того, были ли указаны все необходимые символы.

Номер задания	Правильный ответ
1	3156
2	213
3	1425
4	342675
5	2456
6	156
7	5632
8	сорок пятом
9	сорок четвёртом
10	Багратион
11	Таллин
12	2356

Часть 2

Критерии оценивания выполнения заданий с развёрнутым ответом

Из воспоминаний учёного

«Пять лет... я проработал "учёным корректором" в Издательстве Академии наук СССР... Не скажу, что это была плохая работа. Она мне давала возможность укрыться, не высказываться по "острым вопросам". Я часто хворал, попадал в больницы в острые периоды моей болезни...

В очередной раз я лежал в больнице, когда в Ленинграде началась паспортизация. Период паспортизации был одним из самых страшных периодов в жизни больших городов. Люди Москвы и Ленинграда жили в напряжении, ожидая решения своей судьбы: каково будет решение паспортных комиссий. Строгих инструкций не было. В Ленинграде не давали паспортов дворянам, а в дворцовых пригородах – ещё и бывшим служащим дворцов. Последнее имело последствия не только для людей, но и для дворцов. Дворцовая обслуга была честной и хранила всякую мелочь. Приходившие ей на смену "кадры" утаивали, воровали, "списывали", ничего не понимая в "вещах" – в предметах искусства. Пропадали ценнейшие сведения, передававшиеся из уст в уста, легенды, предания и даже некоторые традиции. С высылкой же дворянства изменялся культурный облик городов. Улица меняла своё обличье. Другими стали лица прохожих (свои одежды улица сменила давно).

Появилась своя паспортная комиссия и в Академии наук. Заседала она в главном здании Академии. Я очень боялся, что меня вызовут и начнут спрашивать о моём деле и выпытывать, как я отношусь к советской власти сейчас. Поэтому, когда я заболел и попал в больницу, я даже как-то не очень стремился выписаться из неё. Выписавшись, я узнал: паспортная комиссия в Академии закончила свою работу. Думал – пронесло... Однако ж не пронесло. Мне объявили, что паспорта мне не дают. Назначили срок выезда из Ленинграда. Не дали паспортов... всем, кто имел "судимость". Отец страшно волновался. Искал влиятельных лиц и, знаю, у кого-то плакал (мне говорили). Наконец, нашёлся кто-то (кажется, секретарь райкома), который обещал помочь, но хотел повидать меня... За столом сидели секретарь и его жена, которая смотрела на меня с жалостью. Кончилось тем, что мне дали отсрочку на "долечивание"».

13

Укажите десятилетие, когда произошли описываемые события. Укажите высшего руководителя коммунистической партии в СССР в этот период. Укажите название правительства СССР в этот период.

Содержание верного ответа и указания по оцениванию (допускаются иные формулировки ответа, не искажающие его смысла)	Баллы
Правильный ответ должен содержать следующие <u>элементы</u> : 1) <u>десятилетие</u> – 1930-е гг.; 2) <u>руководитель партии</u> – И.В. Сталин; 3) <u>название правительства</u> – Совет Народных Комиссаров. <i>Каждый элемент может быть засчитан только при условии отсутствия неверных позиций в этом элементе наряду с верной</i>	
Правильно указаны десятилетие, руководитель партии и название правительства	2
Правильно указаны любые два элемента	1
Правильно указан один любой элемент. ИЛИ Ответ неправильный	0
<i>Максимальный балл</i>	2

- 14 Чем была хороша, по мнению автора воспоминаний, его работа в должности «учёного корректора»? Каково было, по мнению автора, последствие паспортизации для дворцов, расположенных в пригородах Ленинграда? Какое обстоятельство согласно данному отрывку спасло автора воспоминаний от выезда из Ленинграда?

При ответе избегайте цитирования избыточного текста, не содержащего положений, которые должны быть приведены по условию задания.

Содержание верного ответа и указания по оцениванию (допускаются иные формулировки ответа, не искажающие его смысла)	Баллы
<p>Правильный ответ должен содержать следующие <u>элементы</u>:</p> <p>1) <u>ответ на первый вопрос</u>: работа давала автору возможность укрыться, не высказываться по «острым вопросам»;</p> <p>2) <u>ответ на второй вопрос</u>: приходившие на смену дворцовой службе «кадры» утаивали, воровали, «списывали» дворцовое имущество, ничего не понимая в предметах искусства;</p> <p>3) <u>ответ на третий вопрос</u>: от выезда из Ленинграда автора воспоминаний спасло вмешательство влиятельного человека, которого нашёл отец автора.</p> <p>Ответ может быть представлен как в форме цитат, так и в форме сжатого воспроизведения основных идей соответствующих фрагментов текста.</p> <p><i>Поскольку в задании требуется найти в тексте данную в явном виде конкретную информацию, не засчитывается при оценивании переписанный целиком объёмный отрывок текста, включающий наряду с верным элементом избыточную информацию</i></p>	
Правильно даны ответы на три вопроса	2
Правильно даны ответы на два вопроса	1
Правильно дан ответ на один вопрос. ИЛИ Ответ неправильный	0
<i>Максимальный балл</i>	2



Рассмотрите изображение и выполните задания 15, 16.



- 15 Назовите киевского князя, по приказу которого был основан город, юбилею которого посвящена марка. Используя изображение, приведите одно любое обоснование Вашего ответа.

Содержание верного ответа и указания по оцениванию (допускаются иные формулировки ответа, не искажающие его смысла)	Баллы
<p>Правильный ответ должен содержать следующие <u>элементы</u>:</p> <p>1) <u>князь</u> – Ярослав Мудрый;</p> <p>2) <u>обоснование</u>, например:</p> <p>– марка посвящена 950-летию города Тарту. Древнее название этого города – Юрьев. Юрьев был основан по приказу Ярослава Мудрого;</p> <p>– марка выпущена в 1980 г. и посвящена 950-летию изображённого на ней города. 1980 – 950 = 1030. В 1030 г. киевским князем был Ярослав Мудрый. (Может быть приведено другое обоснование.)</p> <p><i>Элемент ответа 1 может быть засчитан только при условии отсутствия неверных позиций в этом элементе наряду с верной</i></p>	
Правильно указан князь, дано верное обоснование	2
Правильно указан только князь	1
Князь указан неправильно / не указан независимо от наличия обоснования	0
<i>Максимальный балл</i>	2

16 Какой из представленных ниже памятников архитектуры был создан в том же веке, когда был основан город, юбилею которого посвящена марка? В ответе запишите цифру, которой обозначен этот памятник архитектуры. Назовите город, где находится данный памятник архитектуры.



Содержание верного ответа и указания по оцениванию (допускаются иные формулировки ответа, не искажающие его смысла)	Баллы
Правильный ответ должен содержать следующие <u>элементы</u> : 1) <u>цифра, обозначающая памятник архитектуры</u> , – 3; 2) <u>город</u> – Новгород (Великий Новгород). <i>Каждый элемент может быть засчитан только при условии отсутствия неверных позиций в этом элементе наряду с верной</i>	
Правильно указана цифра, назван город	2
Правильно указана только цифра	1
Цифра указана неправильно / не указана независимо от указания города	0
<i>Максимальный балл</i>	2

17 Прочтите отрывки из воспоминаний современников.

ФРАГМЕНТЫ ИСТОЧНИКОВ	
А)	«Слушал радиопередачу. Вчера состоялось торжественное собрание, посвящённое годовщине Октября. Сегодня состоялся парад частей Красной армии. Нет, я не ослышался. Это правда, правда! Парад перед лицом наступающего врага, в условиях, когда фашистские полчища рвутся в столицу. И там... выступил от имени ЦК партии и правительства товарищ Сталин. С трибуны Мавзолея великого Ленина, поздравляя воинов Красной армии, советский народ с 24-й годовщиной Октябрьской социалистической революции, Сталин призвал громить гитлеровских захватчиков, заявив о непоколебимой вере в победу. Значит, [город] стоит и стоит уверенно и стойко. Это всем нам придаёт много бодрости, удесятерит наши силы».
Б)	«Фашистские войска всё ближе и ближе приближались к городу, стараясь взять его в свои клещи. Гитлер стянул сюда свои лучшие и отборные войска и кинул на захват [города] почти треть своих дивизий... По указанию Гитлера они готовились к 7 Ноября. В день годовщины Великой Октябрьской Социалистической революции он рассчитывал провести парад немецких войск на Красной площади. Но многочисленные планы гитлеровцев провалились... Несмотря на огромную опасность, нависшую над [городом], жители города не унывали. Заняв оборону на ближних подступах к городу, добровольцы усердно принялись за учёбу, работу, несение караульной службы. Рылись окопы, рвы, блиндажи. И вскоре город был окутан густой сетью противотанковых рвов, заграждений из проволоки, окопов, огромным количеством зелёных, деревянных и бетонных блиндажей, ставших непроходимым препятствием для фашистских захватчиков».

Укажите название битвы, о событиях которой идёт речь в обоих представленных отрывках. Укажите месяц и год начала этой битвы. Что, согласно одному из отрывков, собиралось осуществить фашистское командование 7 ноября?

При ответе избегайте цитирования избыточного текста, не содержащего положений, которые должны быть приведены по условию задания.

Содержание верного ответа и указания по оцениванию (допускаются иные формулировки ответа, не искажающие его смысла)	Баллы
<p>Правильный ответ должен содержать следующие элементы:</p> <p>1) название битвы – Московская битва (битва за Москву);</p> <p>2) месяц и год начала битвы – сентябрь 1941 г.;</p> <p>3) ответ на вопрос, например: «провести парад немецких войск на Красной площади».</p> <p><i>Каждый из элементов 1 и 2 ответа может быть засчитан только при условии отсутствия неверных позиций в этом элементе наряду с верной. Элемент ответа 3 может быть представлен как в форме цитат, так и в форме сжатого воспроизведения основных идей соответствующего фрагмента текста. Поскольку в задании требуется найти в тексте данную в явном виде конкретную информацию, не засчитывается при оценивании элемента 3 ответа переписанный целиком объёмный отрывок текста, включающий наряду с верным элементом избыточную информацию</i></p>	
Правильно указаны название битвы, месяц и год её начала, дан ответ на вопрос	3
Правильно указаны два элемента	2
Правильно указан только один элемент	1
Приведены рассуждения общего характера, не соответствующие требованию задания. ИЛИ Ответ неправильный	0
<i>Максимальный балл</i>	3

18 В 1830–1831 гг. произошло восстание в Царстве Польском, которое было подавлено русскими войсками. Укажите:

- а) причину восстания, связанную с влиянием политических событий в других странах;
 б) политическое последствие восстания для Царства Польского;
 в) последствие восстания для развития высшего образования в Российской империи.

Ответ оформите в следующем виде (обязательно соблюдайте порядок заполнения пунктов ответа).

- а) _____
 б) _____
 в) _____

Содержание верного ответа и указания по оцениванию (допускаются иные формулировки ответа, не искажающие его смысла)	Баллы
Правильный ответ должен содержать следующие <u>элементы</u> : а) в июле 1830 г., когда во Франции вспыхнула революция, Николай I был готов послать войска для помощи французской монархии. Жители Царства Польского были возмущены этим решением. Угроза мобилизации стала одной из причин (поводом) к восстанию в Царстве Польском; б) упразднение польского сейма; в) закрытие Варшавского и Виленского университетов. Могут быть указаны другие причина и/или последствие(-я). <i>Каждый элемент может быть засчитан только при условии отсутствия неверных позиций в этом элементе наряду с верной</i>	
Правильно указаны три элемента ответа	3
Правильно указаны два элемента ответа	2
Правильно указан один элемент ответа	1
Приведены рассуждения общего характера, не соответствующие требованию задания. ИЛИ Ответ неправильный	0
<i>Максимальный балл</i>	3

19 Используя знания по истории России, раскройте смысл понятия «заповедные лета». Приведите один исторический факт, конкретизирующий данное понятие применительно к истории России. Приведённый факт не должен содержаться в данном Вами определении понятия.

Содержание верного ответа и указания по оцениванию (допускаются иные формулировки ответа, не искажающие его смысла)	Баллы
Правильный ответ должен содержать следующие <u>элементы</u> : 1) <u>смысл понятия</u> , например: период, в течение которого временно был запрещён переход крестьян от одного землевладельца к другому даже в Юрьев день; (Смысл понятия может быть приведён в иной, близкой по смыслу формулировке.) 2) <u>факт</u> , например: – введение заповедных лет началось по указу Ивана Грозного; – введение заповедных лет – явление, свидетельствующее о закреплении крестьян. (Может быть приведён другой факт.) <i>Элемент 2 ответа (факт) может быть засчитан только при условии отсутствия неверных позиций в этом элементе наряду с верной</i>	
Правильно раскрыт смысл понятия (содержание понятия корректно раскрыто через родовую принадлежность понятия и, если это необходимо, его видовое(-ые) отличие(-я)); приведён один исторический факт, конкретизирующий данное понятие	2
Правильно раскрыт смысл понятия (содержание понятия корректно раскрыто через родовую принадлежность понятия и, если это необходимо, его видовое(-ые) отличие(-я)); исторический факт, конкретизирующий данное понятие, приведён неправильно / не приведён / содержится в приведённом определении понятия. ИЛИ Смысл понятия не раскрыт / раскрыт неправильно; приведён один исторический факт, конкретизирующий данное понятие	1
Смысл понятия не раскрыт / раскрыт неправильно; исторический факт, конкретизирующий данное понятие, приведён неправильно / не приведён. ИЛИ Приведены рассуждения общего характера, не соответствующие требованию задания	0
<i>Максимальный балл</i>	2

- 20** Запишите один любой тезис (обобщённое оценочное суждение), содержащий информацию о сходстве экономической политики Николая I и Александра III по какому(-им)-либо признаку(-ам). Приведите два обоснования этого тезиса. Каждое обоснование должно содержать один или несколько исторических фактов. При обосновании тезиса избегайте рассуждений общего характера.

Ответ оформите в следующем виде.

Тезис: _____

Обоснования тезиса:

1) _____

2) _____

Содержание верного ответа и указания по оцениванию (допускаются иные формулировки ответа, не искажающие его смысла)	Баллы
<p>Правильный ответ должен содержать следующие <u>элементы</u>:</p> <p>1) <u>тезис</u>, например: в годы правлений Николая I и Александра III значительное внимание уделялось развитию путей сообщения и финансовой сферы; (Может быть сформулирован другой тезис.)</p> <p>2) <u>обоснования</u>, например (для приведённого выше тезиса): – при Николае I в России было начато железнодорожное строительство, проложены дороги Санкт-Петербург – Царское Село и Санкт-Петербург – Москва; при Александре III в 1891 г. началось строительство Транссибирской магистрали, связавшей европейскую часть России с Сибирью и Дальним Востоком; – при Николае I была проведена финансовая реформа под руководством Е.Ф. Канкрин, а при Александре III были учреждены Дворянский земельный и Крестьянский поземельный банки. (Могут быть приведены другие исторически корректные обоснования.)</p> <p><i>При оценивании засчитываются только обоснования, содержащие исторический(-ие) факт(ы). В качестве исторических фактов не принимаются указания на совокупность событий (например: «было одержано несколько побед»)</i></p>	

Правильно сформулирован тезис, приведено два исторически корректных обоснования, содержащих исторические факты	3
Правильно сформулирован тезис, приведено только одно исторически корректное обоснование, содержащее исторический(-ие) факт(ы). ИЛИ Правильно сформулирован тезис, приведено два обоснования, содержащих исторические факты; обоснование(-я) содержит(-ат) неточность(-и), существенно не искажающую(-ие) содержание ответа	2
Правильно сформулирован тезис, приведено только одно исторически корректное обоснование, содержащее исторический(-ие) факт(ы); обоснование содержит неточность(-и), существенно не искажающую(-ие) содержание ответа. ИЛИ Тезис сформулирован неверно или не сформулирован (в том числе вместо тезиса приведено суждение типа «сходство в том, что сравниваемые объекты сходны» / тезис как результат сравнения подменён рассуждениями общего характера, приведено не менее одного исторически корректного суждения, содержащего исторический(-ие) факт(ы), позволяющий(-ие) сравнить отдельные аспекты указанных в задании объектов. ИЛИ Правильно сформулирован тезис, приведено не менее одного исторически корректного суждения, содержащего исторический(-ие) факт(ы), позволяющий(-ие) сравнить отдельные аспекты указанных в задании объектов, ни одно из приведённых суждений не обосновывает тезис	1
Все иные ситуации, не соответствующие правилам выставления 3, 2 и 1 балла. ИЛИ Ответ неправильный	0
<i>Максимальный балл</i>	3

- 21** Используя исторические знания, приведите аргументы в подтверждение точки зрения, что в России в XVII в. и в английских колониях в XVIII в. изменения в налоговой политике государства вызвали недовольство населения и повлекли социальные выступления: один аргумент для России и один для колоний Англии. При изложении аргументов обязательно используйте исторические факты.
 Ответ запишите в следующем виде.

Аргумент для России: _____

Аргумент для колоний Англии: _____

Содержание верного ответа и указания по оцениванию (допускаются иные формулировки ответа, не искажающие его смысла)	Баллы
<p>Правильный ответ должен содержать <u>аргументы</u>:</p> <p>1) <u>для России</u>, например: в середине XVII в. в России царским указом была в 4 раза увеличена пошлина на продажу соли, взамен был отменён ряд прямых налогов; цены на соль, являвшуюся основным консервантом, выросли в 3–4 раза, многие не могли себе позволить её покупать, продажи соли упали, казна недополучила средств. Через два года соляной налог был отменён, но взамен правительство решило взыскать двухгодовую недоимку за отменённые прямые налоги; это вызвало в 1648 г. в Москве народное выступление, названное Соляным бунтом;</p> <p>2) <u>для колоний Англии</u>, например: в английских колониях в Северной Америке в 1760-е гг. был введён новый налог – гербовый сбор, вызвавший недовольство американских колонистов и массовые протесты; налог был отменён, но взамен вводились другие налоги и пошлины на британские товары, что привело к волне протестов колонистов под лозунгом «Никаких налогов без представительства!» (в форме массовых бойкотов английских товаров и открытых столкновений). Эти события стали предпосылкой борьбы североамериканских колоний Англии за независимость.</p> <p>Могут быть приведены другие аргументы</p>	
Приведено по одному аргументу для России и колоний Англии	3
Приведён только один аргумент для России. ИЛИ Приведён только один аргумент для колоний Англии	2
Аргумент(ы) не сформулирован(ы); приведено не менее двух фактов, возможность использования которых для аргументации очевидна	1

Аргумент(ы) не сформулирован(ы); приведён один факт, который может быть использован для аргументации. ИЛИ Приведены рассуждения общего характера, не соответствующие требованию задания. ИЛИ Ответ неправильный	0
<i>Максимальный балл</i>	<i>3</i>

В соответствии с Порядком проведения государственной итоговой аттестации по образовательным программам основного общего образования (приказ Минпросвещения России и Рособрнадзора от 04.04.2023 № 233/552, зарегистрирован Минюстом России 15.05.2023 № 73314)

«81. Проверка экзаменационных работ включает в себя:

1) проверку и оценивание предметными комиссиями ответов на задания КИМ для проведения ЕГЭ с развёрнутым ответом <...>, в том числе устных ответов, в соответствии с критериями оценивания по соответствующему учебному предмету, разработка которых организуется Рособрнадзором¹ <...>

По результатам первой и второй проверок эксперты независимо друг от друга выставляют первичные баллы за каждый ответ на задания КИМ для проведения ЕГЭ с развёрнутым ответом <...>

В случае существенного расхождения в первичных баллах, выставленных двумя экспертами, назначается третья проверка. Существенное расхождение в первичных баллах определено в критериях оценивания по соответствующему учебному предмету, разработка которых организуется Рособрнадзором.

Эксперту, осуществляющему третью проверку, предоставляется информация о первичных баллах, выставленных экспертами, ранее проверившими экзаменационную работу».

1. Существенным считается расхождение в баллах, выставленных двумя экспертами за выполнение любого из заданий 13–21, которое составляет 2 или более балла. В этом случае третий эксперт проверяет только те ответы на задания 13–21, которые были оценены со столь существенным расхождением.

2. Расхождение в результатах оценивания двумя экспертами ответа на одно из заданий 13–21 заключается в том, что один эксперт указал на отсутствие ответа на задание, а другой выставил за выполнение этого задания ненулевой балл. В этом случае третий эксперт проверяет только ответы на задания (по всем критериям оценивания данного задания), которые были оценены со столь существенным расхождением.

3. Ситуации, в которых один эксперт указал на отсутствие ответа в экзаменационной работе, а второй эксперт выставил нулевой балл за выполнение этого задания, не являются ситуациями существенного расхождения в оценивании.

¹ Часть 14 статьи 59 Федерального закона от 29.12.2012 № 273-ФЗ «Об образовании в Российской Федерации».